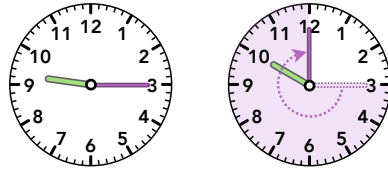


Tidsskillnad

Exempel:
Hur lång tid har det gått
från 09:15 till 17:25?

- 1 Räkna **minuterna**
fram till den första
hela timmen




$$09:15 \text{ till } 10:00$$

$$60 - 15 = 45 \text{ min}$$

min =
minuter

- 2 Räkna **timmarna**
till den sista hela
timmen




$$10:00 \text{ till } 17:00$$

$$17 - 10 = 7 \text{ h}$$

h =
timmar

- 3 Räkna fram de sista
minuterna



$$17:00 \text{ till } 17:25$$

$$25 - 0 = 25 \text{ min}$$

- 4 Lägg ihop **timmarna**
för sig och **minuterna**
för sig

$$7 \text{ h} + 45 \text{ min} + 25 \text{ min} =$$

$$= 7 \text{ h} + 70 \text{ min}$$

- 5 Om det behövs:
Gör om **minuterna** till
timmar + **minuter**

$$= 7 \text{ h} + 60 \text{ min} + 10 \text{ min} =$$

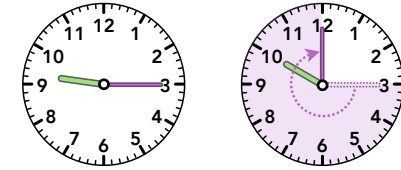
$$= 7 \text{ h} + 1 \text{ h} + 10 \text{ min} =$$

$$= 8 \text{ h} + 10 \text{ min}$$

Tidsskillnad

Exempel:
Hur lång tid har det gått
från 09:15 till 17:25?

- 1 Räkna **minuterna**
fram till den första
hela timmen

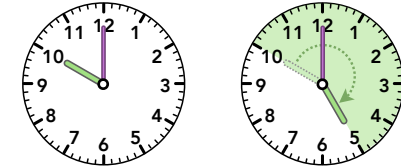


$$09:15 \text{ till } 10:00$$

$$60 - 15 = 45 \text{ min}$$

min =
minuter

- 2 Räkna **timmarna**
till den sista hela
timmen




$$10:00 \text{ till } 17:00$$

$$17 - 10 = 7 \text{ h}$$

h =
timmar

- 3 Räkna fram de sista
minuterna



$$17:00 \text{ till } 17:25$$

$$25 - 0 = 25 \text{ min}$$

- 4 Lägg ihop **timmarna**
för sig och **minuterna**
för sig

$$7 \text{ h} + 45 \text{ min} + 25 \text{ min} =$$

$$= 7 \text{ h} + 70 \text{ min}$$

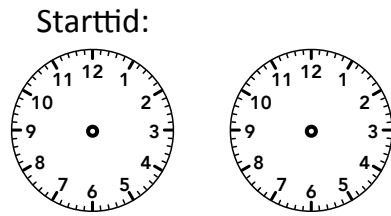
- 5 Om det behövs:
Gör om **minuterna** till
timmar + **minuter**

$$= 7 \text{ h} + 60 \text{ min} + 10 \text{ min} =$$

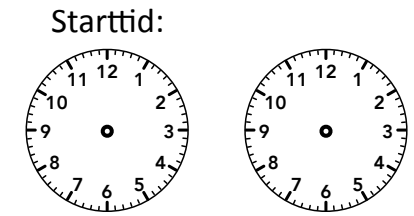
$$= 7 \text{ h} + 1 \text{ h} + 10 \text{ min} =$$

$$= 8 \text{ h} + 10 \text{ min}$$


- 1 Räkna **minuterna** fram till den första hela timmen




- 1 Räkna **minuterna** fram till den första hela timmen




- 2 Räkna **timmarna** till den sista hela timmen




- 2 Räkna **timmarna** till den sista hela timmen



- 3 Räkna fram de sista **minuterna**



- 3 Räkna fram de sista **minuterna**



- 4 Lägg ihop **timmarna** för sig och **minuterna** för sig

- 4 Lägg ihop **timmarna** för sig och **minuterna** för sig

- 5 Om det behövs:
Gör om **minuterna** till **timmar + minuter**

- 5 Om det behövs:
Gör om **minuterna** till **timmar + minuter**